

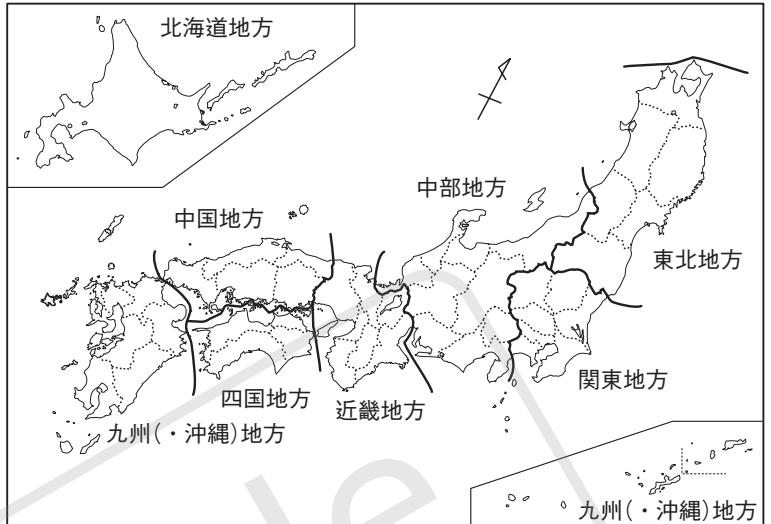
# 1 日本の地方区分

## 1 ||| 日本の地方区分

### (1) 8つの地方

日本には、北海道・東北・関東・中部・近畿・中国・四国・九州(・沖縄)の8つの地方があります。

▼日本の地方区分



### (2) そのほかの地方区分

関東地方に山梨県を加えて首都圏、中部地方の日本海側を北陸地方、中部地方の太平洋側を東海地方、中国地方の日本海側を山陰地方、中国地方の瀬戸内海側を山陽地方とよぶことがあります。

※東海地方には、岐阜県・三重県もふくまれます。

## 2 ||| 各地方の都道府県

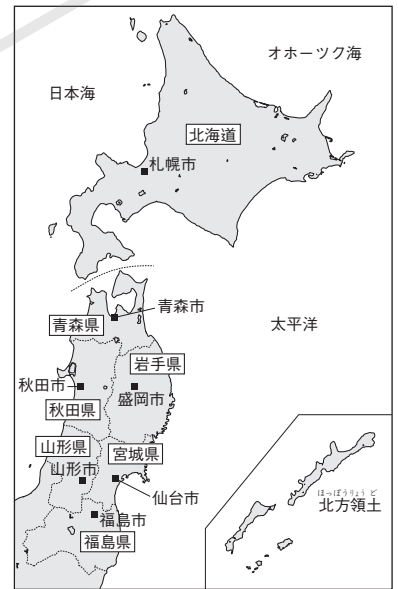
### (1) 北海道・東北地方の道県

北海道地方は最も面積が大きい地方(約83000km<sup>2</sup>)で、日本の面積のおよそ5分の1をしめています。ぞくする都道府県は北海道のみで、道庁は札幌市におかれています。

東北地方には、次の6つの県がぞくしています。

- ① 青森県(県庁：青森市)
- ② 岩手県(県庁：盛岡市)……日本で2番目に面積が大きい。
- ③ 宮城県(県庁：仙台市)……地方で最も人口が多い。
- ④ 秋田県(県庁：秋田市) ⑤ 山形県(県庁：山形市)
- ⑥ 福島県(県庁：福島市)……日本で3番目に面積が大きい。

▼北海道・東北地方の道県



### (2) 関東地方の都県

関東地方は最も人口が多い地方(約4360万人)で、日本の人口のおよそ3分の1をしめています。次の1都6県がぞくしています。

- ① 茨城県(県庁：水戸市)
- ② 栃木県(県庁：宇都宮市)……地方で最も面積が大きい。
- ③ 群馬県(県庁：前橋市)
- ④ 埼玉県(県庁：さいたま市)……日本で5番目に人口が多い。
- ⑤ 千葉県(県庁：千葉市)
- ⑥ 東京都(都庁：東京)……日本で最も人口が多い。
- ⑦ 神奈川県(県庁：横浜市)……日本で2番目に人口が多い。

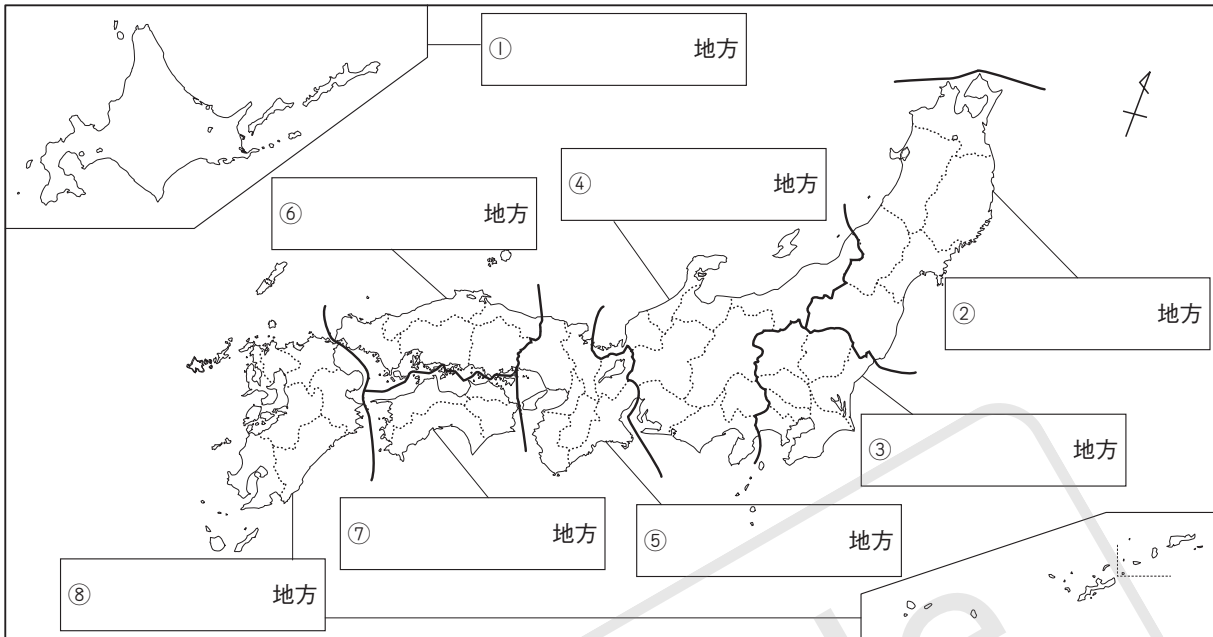
▼関東地方の都県



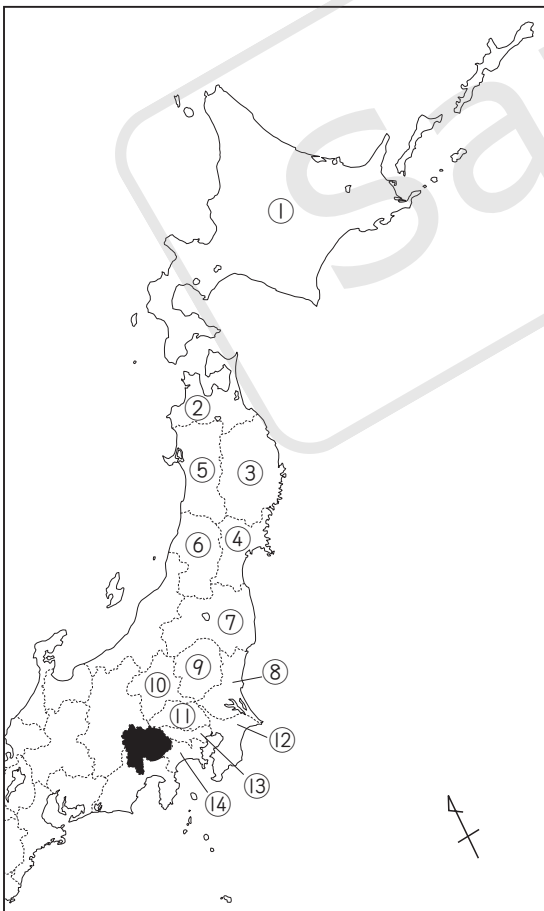
※東京は、日本で最も人口の多い都市で、23の特別区によって成り立っています。

# 基本問題

□1 日本の地方区分 次の地図中の□にあてはまる地方の名前を、それぞれ漢字で答えなさい。



2 北海道・東北・関東地方 次の地図を見て、(1)～(6)の問いに答えなさい。



□(1) 地図中の①の都道府県の面積は、日本の面積の約何分の1をしめていますか。

約 分の1

□(2) 地図中の②～⑦の都道府県のうち、最も面積の大きいものを1つ選びなさい。

□(3) 地図中の②～⑦の都道府県のうち、最も人口の多いものを1つ選びなさい。

□(4) 地図中の⑧～⑭の都道府県のうち、最も面積の大きいものを1つ選びなさい。

□(5) 地図中の⑧～⑭の都道府県の人口の合計は、日本の人口の約何分の1をしめていますか。

約 分の1

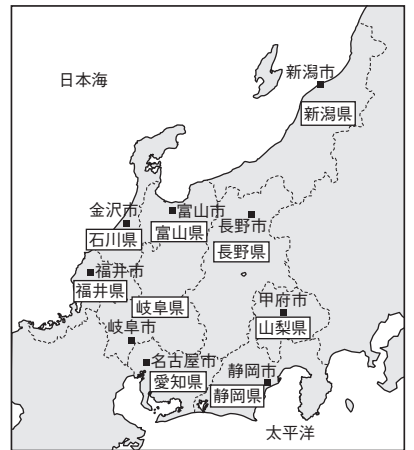
□(6) 地図中の⑧～⑭に黒くぬられた都道府県を加えて、首都圏とよびます。黒くぬられた都道府県名を、漢字で答えなさい。

(3) 中部地方の県

中部地方は日本で最も多い、9つの県がぞくしています。

- ① 新潟県(県庁：新潟市)……日本で5番目に面積が大きい。
- ② 富山県(県庁：富山市)    ③ 石川県(県庁：金沢市)
- ④ 福井県(県庁：福井市)    ⑤ 山梨県(県庁：甲府市)
- ⑥ 長野県(県庁：長野市)……日本で4番目に面積が大きい。
- ⑦ 岐阜県(県庁：岐阜市)    ⑧ 静岡県(県庁：静岡市)
- ⑨ 愛知県(県庁：名古屋市)……日本で4番目に人口が多い。

▼中部地方の県



(4) 近畿地方の府県

近畿地方は、かつて「畿内(都がおかれている場所)」とよばれており、これが地方名の由来となっています。次の2府5県がぞくしています。

- ① 三重県(県庁：津市)    ② 滋賀県(県庁：大津市)
- ③ 京都府(府庁：京都市)
- ④ 大阪府(府庁：大阪市)……日本で3番目に人口が多い。
- ⑤ 兵庫県(県庁：神戸市)……地方で最も面積が大きい。
- ⑥ 奈良県(県庁：奈良市)    ⑦ 和歌山県(県庁：和歌山市)

▼近畿地方の府県



(5) 中国地方の県

中国地方には、次の5つの県がぞくしています。

- ① 鳥取県(県庁：鳥取市)……日本で最も人口が少ない。
- ② 島根県(県庁：松江市)    ③ 岡山県(県庁：岡山市)
- ④ 広島県(県庁：広島市)……地方で最も人口が多い。  
地方で最も面積が大きい。
- ⑤ 山口県(県庁：山口市)

▼中国・四国地方の県



(6) 四国地方の県

四国地方には、次の4つの県がぞくしています。

- ① 徳島県(県庁：徳島市)
- ② 香川県(県庁：高松市)……日本で最も面積が小さい。
- ③ 愛媛県(県庁：松山市)……地方で最も人口が多い。
- ④ 高知県(県庁：高知市)……地方で最も面積が大きい。

※「四国」は、かつてこの地方に4つの国があったことがその名の由来です。

(7) 九州(・沖縄)地方の県

九州(・沖縄)地方には、次の8つの県がぞくしています。

- ① 福岡県(県庁：福岡市)……地方で最も人口が多い。
- ② 佐賀県(県庁：佐賀市)    ③ 長崎県(県庁：長崎市)
- ④ 熊本県(県庁：熊本市)    ⑤ 大分県(県庁：大分市)
- ⑥ 宮崎県(県庁：宮崎市)
- ⑦ 鹿児島県(県庁：鹿児島市)……地方で最も面積が大きい。
- ⑧ 沖縄県(県庁：那覇市)

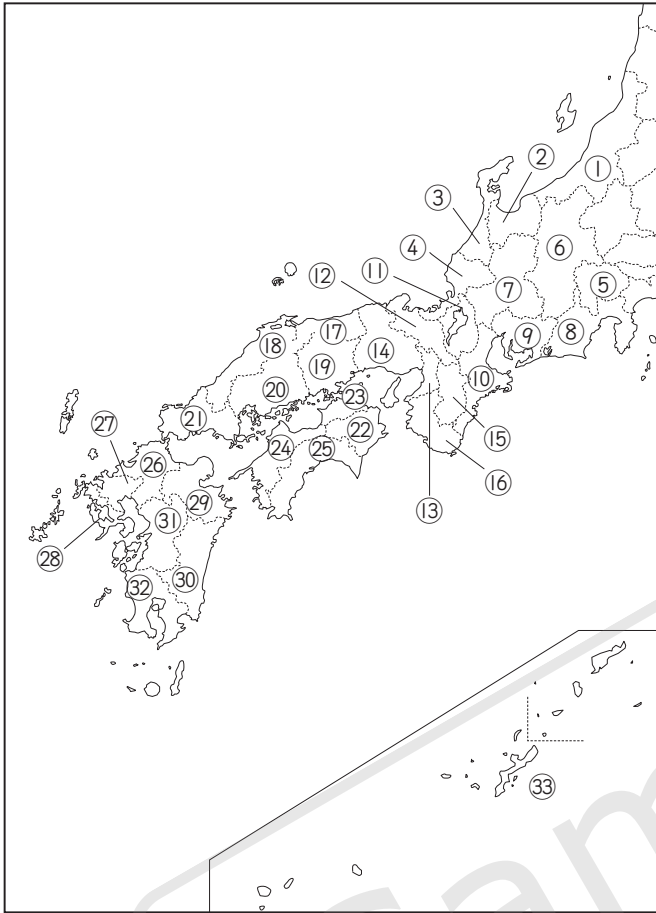
※「九州」は、かつてこの地方に9つの国があったことがその名の由来です。

▼九州(・沖縄)地方の県



# 基本問題

3 中部・近畿・中国・四国・九州地方 次の地図を見て、(1)～(9)の問いに答えなさい。



- (1) 地図中の①～⑨の都道府県のうち、面積が最も大きいものを1つ選びなさい。
- (2) 地図中の①～⑨の都道府県のうち、人口が最も多いものを1つ選びなさい。
- (3) 地図中の⑩～⑯の都道府県のうち、面積が最も大きいものを1つ選びなさい。
- (4) 地図中の⑩～⑯の都道府県のうち、人口が最も多いものを1つ選びなさい。
- (5) 地図中の⑰～⑳の都道府県のうち、面積が最も小さいものを1つ選びなさい。
- (6) 地図中の⑰～⑳の都道府県のうち、人口が最も少ないものを1つ選びなさい。
- (7) 地図中の㉔～㉗の都道府県のうち、面積が最も大きいものを1つ選びなさい。

(8) 地図中の㉔～㉗の都道府県のうち、人口が最も多いものを1つ選びなさい。

(9) 次のア～エのうち、「北陸地方」にあてはまる都道府県の組み合わせを1つ選びなさい。

ア ①・②・③・④    イ ⑦・⑧・⑨・⑩    ウ ⑰・⑱    エ ⑲・⑳

## 発展学習

(1) 都道府県の面積

【大きい順】北海道・岩手県・福島県・長野県・新潟県

【小さい順】香川県・大阪府・東京都・沖縄県・神奈川県

(2) 都道府県の人口

【多い順】東京都・神奈川県・大阪府・愛知県・埼玉県

【少ない順】鳥取県・島根県・高知県・徳島県・福井県

※大阪府はかつて日本で最も小さい都道府県でしたが、香川県にぞくしていた島が香川県でなくなり面積が小さくなったことや、大阪府がうめたてで大きくなったことで、香川県の面積をぬきました。

# 練習問題

日本の地方区分 次のA～Gは、北海道地方をのぞく日本の7地方をしめしたものです。これを見て、あとの問いに答えなさい。ただし、沖縄県は地図にはしめされていません。



(縮尺は一定ではありません。一部の島は省略されています。)

□(1) A～Gの地方の名前を、それぞれ漢字で答えなさい。

A	B	C	D
地方	地方	地方	地方
E	F	G	
地方	地方	地方	

□(2) A～Gのそれぞれの地方の最も人口の多い都道府県の名前を、それぞれ漢字で答えなさい。

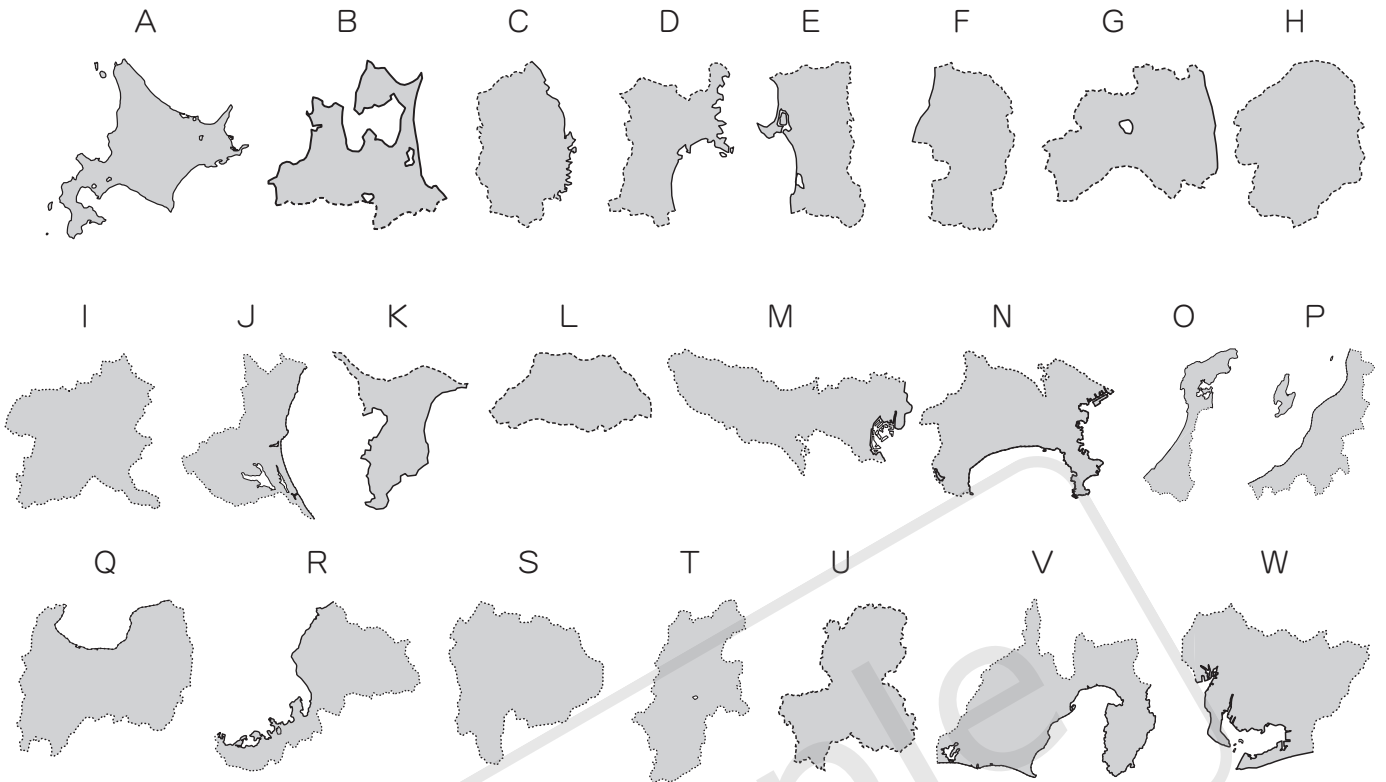
A	B	C	D
E	F	G	

(3) 次の①～⑥の説明にあてはまる地方を、A～Gからそれぞれ1つずつ選びなさい。同じ記号を何度選んでもかまいません。

- |                      |                      |
|----------------------|----------------------|
| □① ぞくする都道府県の数が多い。    | □② 地方別の人口が多い。        |
| □③ 日本一面積の小さい都道府県がある。 | □④ 日本一人口の少ない都道府県がある。 |
| □⑤ 「山陰地方」がふくまれる。     | □⑥ 「北陸地方」がふくまれる。     |

①	②	③
④	⑤	⑥

2 北海道・東北・関東・中部地方 次のA～Wは、北海道・東北・関東・中部地方の各都道府県をしめたものです。これを見て、あとの問いに答えなさい。



(縮尺は一定ではありません。一部の島は省略されています。)

□(1) A～Wの都道府県の名前を、それぞれ漢字で答えなさい。

A		B		C		D	
E		F		G		H	
I		J		K		L	
M		N		O		P	
Q		R		S		T	
U		V		W			

□(2) A・C・D・H・I・J・L・N・O・S・Wの都道府県は、都道府県名と都道府県庁所在地名の表記がことなります。それぞれの都道府県庁所在地名を答えなさい(漢字で表記する地名は漢字で書きなさい)。

A		市	C		市	D		市	H		市
I		市	J		市	L		市	N		市
O		市	S		市	W		市			

③ 近畿・中国・四国・九州地方 次のA～Xは、近畿・中国・四国・九州地方の各都道府県をしめたものです。これを見て、あとの問いに答えなさい。



(縮尺は一定ではありません。一部の島は省略されています。)

□(1) A～Xの都道府県の名前を、それぞれ漢字で答えなさい。

A	B	C	D
E	F	G	H
I	J	K	L
M	N	O	P
Q	R	S	T
U	V	W	X

□(2) D・E・F・J・M・N・Xの都道府県は、都道府県名と都道府県庁所在地名の表記がことなります。それぞれの都道府県庁所在地名を答えなさい(漢字で表記する地名は漢字で書きなさい)。

D	市	E	市	F	市	J	市
M	市	N	市	X	市		

# 学習のまとめ

◆ 次の(1)～(16)の( )にあてはまることば・数字を答えなさい。

( (1)・(4)・(10)～(16)は漢字で答えなさい。 )

## 日本の地方区分

- (1) 最も面積が大きく、1つの都道府県のみで成り立っている地方は( )地方です。 (1) \_\_\_\_\_ 地方
- (2) 関東地方の1都6県に山梨県を加えた地いきを、( )といいます。 (2) \_\_\_\_\_
- (3) 日本で最も多くの都道府県がぞくしている地方が中部地方で、その数は( )つあります。 (3) \_\_\_\_\_ つ
- (4) 中部地方の日本海側にある新潟県・富山県・( )県・福井県は、北陸地方とといいます。 (4) \_\_\_\_\_ 県
- (5) 中部地方の太平洋側にある静岡県・愛知県に、岐阜県と三重県を加えて、( )地方とといいます。 (5) \_\_\_\_\_ 地方
- (6) 近畿地方は、「( )〔都がおかれたところ〕」ということがその名の由来となっています。 (6) \_\_\_\_\_
- (7) 近畿地方は、( )つの府と、5つの県によって成り立っています。 (7) \_\_\_\_\_ つ
- (8) 中国地方の日本海側にある鳥取県・島根県と山口県北部は、( )地方とといいます。 (8) \_\_\_\_\_ 地方
- (9) 中国地方の瀬戸内海側にある岡山県・広島県と山口県南部は、( )地方とといいます。 (9) \_\_\_\_\_ 地方

## 各地方の都道府県

- ④□(10) 日本の都道府県を面積の大きい順にならべると、北海道・岩手県・福島県・長野県・( )の順となります。 (10) \_\_\_\_\_
- ④□(11) 日本の都道府県を面積の小さい順にならべると、香川県・( )・東京都・沖縄県・神奈川県か がわの順となります。 (11) \_\_\_\_\_
- ④□(12) 日本の都道府県を人口の多い順にならべると、東京都・神奈川県おおさか・大阪府・愛知県・( )の順となります。 (12) \_\_\_\_\_
- ④□(13) 日本の都道府県を人口の少ない順にならべると、鳥取県・( )・高知県・徳島県とくしま・福井県ふくいの順となります。 (13) \_\_\_\_\_
- (14) 中国地方で最も面積が大きく、人口も最も多いのは、( )です。 (14) \_\_\_\_\_
- (15) 四国地方で最も面積が大きいのは高知県で、人口が最も多いのは( )です。 (15) \_\_\_\_\_
- (16) 九州地方で最も面積が大きいのは( )で、人口が最も多いのは福岡県です。 (16) \_\_\_\_\_